





## Recruitment of Sub-Inspector in Delhi Police, CAPFs and Assistant Sub-Inspector in CISF Examination, 2018

Roll No. :	
Registration No.	
Name :	
Exam Venue :	
Exam Time :	9:00 AM - 11:00 AM
Exam Date :	16/03/2019

Section : SI CPO

Q.1 निम्नलिखित में से कौन-सा विकल्प नीचे दिए गए शब्दों के तर्कसंगत और अर्थपूर्ण क्रम को दर्शाता है।

1. कक्षाएं
2. प्रवेश परीक्षा
3. परिणाम
4. प्रवेश
5. स्नातक
6. नौकरी

Ans  1. 2, 3, 4, 1, 6, 5  
 2. 5, 2, 6, 4, 3, 1  
 3. 2, 3, 4, 1, 5, 6  
 4. 6, 2, 5, 4, 3, 1





Question ID : 98958012011

Status : Answered

Chosen Option : 3

Q.2 निम्नलिखित संख्या-युग्म की दोनों संख्या जिस प्रकार एक-दूसरे से सम्बंधित हैं, उसी प्रकार का संबंध रखने वाले संख्या-युग्म का चयन कीजिए।

11 : 242

Ans  1. 8 : 128  
 2. 5 : 52  
 3. 9 : 729  
 4. 15 : 375

Question ID : 98958012032

Status : Answered

Chosen Option : 2

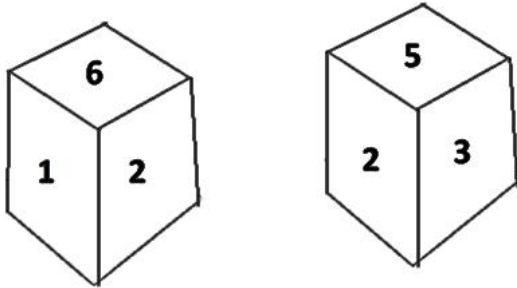
Q.3 निम्नलिखित में से कौन-सा विकल्प नीचे दिए गए शब्दों के तर्कसंगत और अर्थपूर्ण क्रम को दर्शाता है।

1. घंटा
2. महीना
3. सेकंड
4. दिन
5. मिनट
6. सप्ताह

- Ans ☒ 1. 2, 3, 4, 1, 6, 5  
☒ 2. 3, 5, 1, 4, 6, 2  
☒ 3. 2, 3, 4, 1, 5, 6  
☒ 4. 6, 2, 5, 4, 3, 1

Question ID : 98958012010  
 Status : Answered  
 Chosen Option : 2

Q.4 एक ही पासे की दो स्थितियां दर्शायी गई हैं। संख्या '3' के विपरीत कौन-सी संख्या होगी?



- Ans ☒ 1. 6  
☒ 2. 2  
☒ 3. 4  
☒ 4. 1

Question ID : 98958012049  
 Status : Answered  
 Chosen Option : 1

Q.5 निम्नलिखित चार संख्या-युग्मों में से तीन किसी विशिष्ट सन्दर्भ में एक दूसरे के समान हैं और एक असमान है। असमान संख्या-युग्म को ज्ञात कीजिए।

EFRI95uh

- Ans ☒ 1. EFRI65uh  
☒ 2. pnt9IRFE  
☒ 3. EFRI62uh  
☒ 4. pnt9IRFE

Question ID : 98958012053  
 Status : Answered  
 Chosen Option : 2

Q.6 दिए गए विकल्पों में से उस संख्या-समूह का चयन कीजिए जो निम्नलिखित संख्या-समूह के समान है।  
 (25, 144, 47)

- Ans ☒ 1. (15, 96, 340)  
☒ 2. (9, 72, 8)

✗ 3. (16, 82, 23)

✓ 4. (19, 78, 20)

Question ID : 98958012039

Status : Answered

Chosen Option : 3

Q.7 जिस प्रकार 'माह' का संबंध 'मार्च' से उसी प्रकार 'ऋतु' का संबंध '\_\_\_\_\_' से है।

Ans ✗ 1. वर्ष

✓ 2. बसंत

✗ 3. त्यौहार

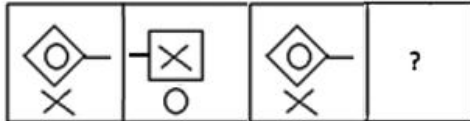
✗ 4. सप्ताह

Question ID : 98958012017

Status : Answered

Chosen Option : 2

Q.8 निम्नलिखित आकृति श्रृंखला में आने वाली अगली आकृति का चयन कीजिए।



Ans

✗ 1.

✗ 2.

✗ 3.

✓ 4.

Question ID : 98958012046

Status : Answered

Chosen Option : 4

Q.9 निम्नलिखित चार शब्दों में से तीन किसी विशिष्ट सन्दर्भ में एक दूसरे के समान हैं और एक असमान है। असमान शब्द का चयन कीजिए।

Ans ✓ 1. आश्रयालय (हैबीटेट)

✗ 2. अस्तबल

✗ 3. बाड़ा (बार्न)

✗ 4. मांद

Question ID : 98958012015

Status : Answered

Chosen Option : 3

Q.1 निम्नलिखित श्रृंखला में प्रश्नवाचक चिह्न (?) के स्थान पर कौन-सा अक्षर-समूह आएगा?  
CFZ, EGX, HIU, JLS, MPP, ?

Ans ✓ 1. OUN

✗ 2. NTO

✗ 3. OTN


✗ 4. MSN

Question ID : 98958012009

Status : Answered

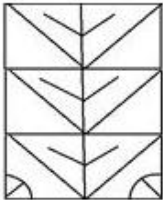
Chosen Option : 1

Q.1 उस विकल्प का चयन कीजिए जिसमें नीचे दी गई आकृति छिपी हुई है।

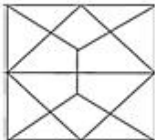


Ans

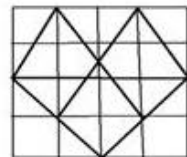
✗ 1.



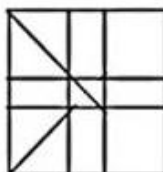
✗ 2.



✓ 3.



✗ 4.



Question ID : 98958012050

Status : Answered

Q.1 कुनाल का घर एक कॉफी शॉप की दक्षिण दिशा में स्थित है। कॉफी शॉप के पूर्व की दिशा में एक पार्क है। स्थानीय बाजार पार्क की उत्तर दिशा में है। यदि पार्क से बाजार की दूरी कुनाल के घर से कॉफी शॉप की दूरी के बराबर है, तब कॉफी शॉप के संबंध में बाजार किस दिशा में है?

- Ans
- ☒ 1. दक्षिण-पश्चिम
  - ☒ 2. पश्चिम
  - ☒ 3. उत्तर-पूर्व
  - ☒ 4. दक्षिण-पूर्व

Question ID : 98958012044

Status : Answered

Chosen Option : 3

Q.1 यदि '+' का अर्थ 'x' है, 'x' का अर्थ '+' है, '-' का अर्थ '-' है और '-' का अर्थ '+' है, तब निम्नलिखित पद का मान क्या होगा?

$$16 \times 3 + 5 - 2 \div 4$$

- Ans
- ☒ 1. 10
  - ☒ 2. 7
  - ☒ 3. 19
  - ☒ 4. 9

Question ID : 98958012041

Status : Answered

Chosen Option : 4

Q.1 दो कथनों के आगे दो निष्कर्ष I और II दिए गये हैं। इन कथनों को सत्य मानते हुए, भले ही वे सामान्य रूप से जात तथ्यों से भिन्न क्यों न प्रतीत हों, यह निर्णय लीजिए कि कौन-से निष्कर्ष दिए गये कथनों से तर्कसंगत रूप से अनुसरण करता है / करते हैं।

कथन:

कुछ चादरें तोलियें हैं।  
कुछ तोलियें तकियें हैं।

निष्कर्ष:

- I. कुछ तकियें चादरें हैं।
- II. कोई भी तकिया चादर नहीं है।

- Ans
- ☒ 1. न तो निष्कर्ष I और न ही निष्कर्ष II अनुसरण करता है।
  - ☒ 2. केवल निष्कर्ष I अनुसरण करता है।
  - ☒ 3. या तो निष्कर्ष I या निष्कर्ष II अनुसरण करता है।
  - ☒ 4. केवल निष्कर्ष II अनुसरण करता है।

Question ID : 98958012027

Status : Answered


Chosen Option : 3

एक वर्गाकार कागज के टुकड़े को मोड़ने के क्रम तथा मोड़े गये कागज को काटने का ढंग दर्शाया गया है। जब इस कागज की तह को खोला जाएगा तो कागज कैसा दिखाई देगा?



Ans

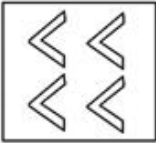
✗ 1.



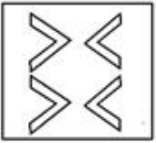
✗ 2.



✗ 3.



✓ 4.



Question ID : 98958012054

Status : Answered

Chosen Option : 4

Q.1 निम्नलिखित चार अक्षर-समूहों में से तीन किसी विशिष्ट सन्दर्भ में एक दूसरे के समान हैं और एक असमान है।  
6 असमान अक्षर-समूह का चयन कीजिए।

Ans

✗ 1. QSVZ

✗ 2. EGJN

✓ 3. OQSV

✗ 4. KMPT

Question ID : 98958012012

Status : Answered

Chosen Option : 3

Q.1 दो कथनों के आगे दो निष्कर्ष I और II दिए गये हैं। इन कथनों को सत्य मानते हुए, भले ही वे सामान्य रूप से ज्ञात तथ्यों से भिन्न क्यों न प्रतीत हों, यह निर्णय लीजिए कि कौन-से निष्कर्ष दिए गये कथनों से तर्कसंगत रूप से अनुसरण करता है / करते हैं।

कथन:

सभी अधिकारी विनम्र लोग हैं।

सभी विनम्र लोग धनी हैं।

निष्कर्ष:

I. सभी अधिकारी धनी हैं।

II. सभी विनम्र लोग अधिकारी हैं।

Ans

- ✗ 1. केवल निष्कर्ष ॥ अनुसरण करता है।
- ✗ 2. दोनों निष्कर्ष । और ॥ अनुसरण करते हैं।
- ✓ 3. केवल निष्कर्ष । अनुसरण करता है।
- ✗ 4. न तो निष्कर्ष । और न ही निष्कर्ष ॥ अनुसरण करता है।

Question ID : 98958012026  
Status : Answered  
Chosen Option : 3

Q.1 ऐसे विकल्प का चयन करें जो तीसरी संख्या से उसी प्रकार संबंधित है जिस प्रकार दूसरी संख्या पहली संख्या से संबंधित है।


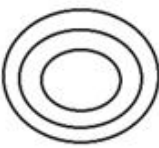

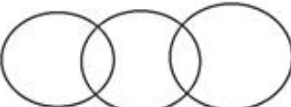
16 : 68 :: 28 : \_\_\_\_\_

- Ans ✓ 1. 119
- ✗ 2. 77
- ✗ 3. 346
- ✗ 4. 49

Question ID : 98958012031  
Status : Answered  
Chosen Option : 3

Q.1 उस वेन आरेख का चयन कीजिए जो निम्नलिखित श्रेणियों के बीच सही संबंध दर्शाता है।

बिल्ली, स्तनधारी, तोता

- Ans
- ✗ 1. 
- ✗ 2. 
- ✓ 3. 
- ✗ 4. 

Question ID : 98958012055  
Status : Answered  
Chosen Option : 3

Q.2 निम्नलिखित चार शब्दों में से तीन शब्द किसी विशिष्ट सन्दर्भ में एक दूसरे के समान हैं और एक असमान है। असमान शब्द का चयन कीजिए।

- Ans ✗ 1. कागज



✗ 2. रबर

✓ 3. लेखन सामग्री

✗ 4. कलम

Question ID : 98958012014

Status : Answered

Chosen Option : 2

Q.2 निम्नलिखित चार संख्याओं में से तीन संख्याएं किसी विशिष्ट सन्दर्भ में एक दूसरे के समान हैं और एक असमान है।  
1 असमान संख्या जात कीजिए।

Ans ✗ 1. 396

✓ 2. 571

✗ 3. 451

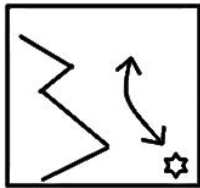
✗ 4. 792

Question ID : 98958012034

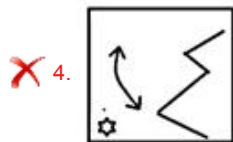
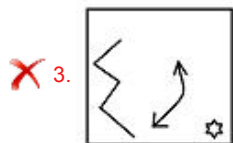
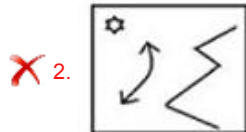
Status : Answered

Chosen Option : 4

Q.2 नीचे दी गई आकृति के दायीं ओर दर्पण को रखने पर बनने वाले सही प्रतिबिम्ब का चयन कीजिए।  
2



Ans



Question ID : 98958012052

Status : Answered

Chosen Option : 1

Q.2  
3



निम्नलिखित चार संख्याओं में से तीन संख्याएं किसी विशिष्ट सन्दर्भ में एक दूसरे के समान हैं और एक असमान है। असमान संख्या जात कीजिए।

- Ans
- ☒ 1. 64
  - ☒ 2. 16
  - ☒ 3. 8
  - ☒ 4. 34

Question ID : 98958012035

Status : Answered

Chosen Option : 4

Q.2  
4 निम्नलिखित श्रृंखला में कौन-सी संख्या प्रश्नवाचक चिन्ह (?) को प्रतिस्थापित करेगी?  
0.15, 0.20, 0.30, 0.45, 0.65, ?

- Ans
- ☒ 1. 0.90
  - ☒ 2. 0.85
  - ☒ 3. 0.80
  - ☒ 4. 0.95

Question ID : 98958012029

Status : Answered

Chosen Option : 1

Q.2  
5 निम्नलिखित समीकरणों को सही रूप से हल करने के लिए किन दो चिह्नों को आपस में बदलना होगा?  
 $\frac{1}{4} \div \frac{1}{64} - 5 + 45 \times 120 = 5$

- Ans
- ☒ 1. + और ×
  - ☒ 2. × और −
  - ☒ 3. + और −
  - ☒ 4. − और ÷

Question ID : 98958012042

Status : Answered

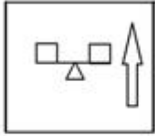
Chosen Option : 2

Q.2  
6 निम्नलिखित आकृति श्रृंखला में आने वाली अगली आकृति का चयन कीजिए।

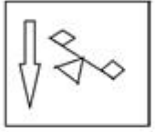


- Ans
- ☒ 1.
  - ☒ 2.

3.



4.



Question ID : 98958012047

Status : Answered

Chosen Option : 1

Q.2 निम्नलिखित समीकरणों को सही रूप से हल करने के लिए किन दो चिह्नों को आपस में बदलना होगा?

7

$$7 \times 2 + 5 - 16 \div 4 = 13$$

Ans 1.  $\div$  and  $+$

2.  $\times$  and  $-$

3.  $\times$  and  $+$

4.  $\div$  and  $\times$

Question ID : 98958012040

Status : Answered

Chosen Option : 3

Q.2 जिस प्रकार नीचे दिए गए अक्षरों के समूह में दूसरा अक्षर समूह पहले अक्षर समूह से सम्बंधित है, उसी प्रकार तीसरे

8

अक्षर समूह से सम्बंधित विकल्प का चयन कीजिए।

FLOWER : UOLDVI : : JASMINE : \_\_\_\_\_

Ans 1. QZGNRMV

2. QAHNRMV

3. QZHMRNV

4. QZHNRMV

Question ID : 98958012020

Status : Answered

Chosen Option : 4

Q.2 जिस प्रकार नीचे दिए गए अक्षरों के समूह में दूसरा अक्षर समूह पहले अक्षर समूह से सम्बंधित है, उसी प्रकार चौथे

9

अक्षर समूह से सम्बंधित विकल्प का चयन कीजिए।

FHK : KMP : : \_\_\_\_\_ : UWZ

Ans 1. PRV

2. PSU

3. PRU

4. ORU

Question ID : 98958012021

Status : Answered

Chosen Option : 3

Q.3

0 उस विकल्प का चयन कीजिए जिसमें शब्द-युग्म के बीच वही सम्बन्ध है जो निम्नलिखित शब्द-युग्म के दो शब्दों के बीच है।

घोड़ा : सरपट चाल

Ans ☒ 1. हाथी : विशालकाय

☒ 2. शेर : दहाड़ना

☒ 3. पक्षी : उड़ना

☒ 4. चूहा : गड़ढा

Question ID : 98958012019

Status : Answered

Chosen Option : 3

Q.3 1 उस विकल्प का चयन कीजिए जिसमें शब्द-युग्म के बीच वही सम्बन्ध है जो निम्नलिखित शब्द-युग्म के दो शब्दों के बीच है।

शल्य चिकित्सक : चिकित्सा छुरी

Ans ☒ 1. नौसेना : लेफ्टिनेंट

☒ 2. दर्जी : कमीज

☒ 3. चिकित्सक : अस्पताल

☒ 4. मूर्तिकार : छेनी/चिजल

Question ID : 98958012018

Status : Answered

Chosen Option : 4

Q.3 2 उस वेन आरेख का चयन कीजिए जो निम्नलिखित श्रेणियों के बीच सही संबंध दर्शाता है।  
विश्व, एशिया, नेपाल

Ans ☒ 1. 

☒ 2. 

☒ 3. 

☒ 4. 

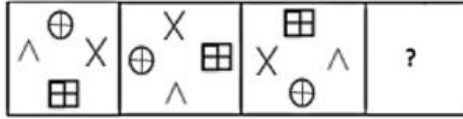
Question ID : 98958012056

Status : Answered

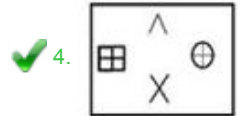
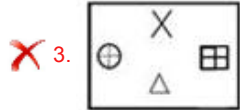
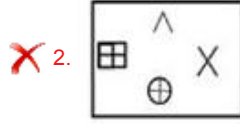
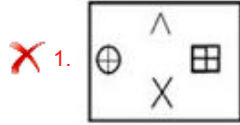
Chosen Option : 3

Q.3  
3

निम्नलिखित आकृति श्रृंखला में आने वाली अगली आकृति का चयन कीजिए।



Ans



Question ID : 98958012045

Status : Answered

Chosen Option : 4

Q.3 जिस प्रकार 'तापमान' का संबंध 'डिग्री' से है, उसी प्रकार 'समय' का संबंध '\_\_\_\_\_' से है।

Ans

✗ 1. मीटर

✗ 2. लीटर

✓ 3. सेकेंड

✗ 4. न्यूटन

Question ID : 98958012016

Status : Answered

Chosen Option : 3

Q.3 निम्नलिखित चार संख्या-युग्मों में से तीन किसी विशिष्ट सन्दर्भ में एक दूसरे के समान हैं और एक असमान है। असमान संख्या-युग्म को ज्ञात कीजिए।

Ans

✗ 1. 28 : 32

✓ 2. 54 : 64

✗ 3. 119 : 136





✗ 4. 91 : 104

Question ID : 98958012036

Status : Answered

Chosen Option : 2

Q.3 निम्नलिखित चार संख्या-युग्मों में से तीन किसी विशिष्ट सन्दर्भ में एक दूसरे के समान हैं और एक असमान है। असमान संख्या-युग्म को ज्ञात कीजिए।

- Ans  1. 14 : 3  
 2. 12 : 4  
 3. 21 : 2  
 4. 7 : 6

Question ID : 98958012037  
Status : Answered  
Chosen Option : 2

Q.3  
7 उस संख्या की पहचान कीजिए जो दी गई श्रृंखला से संबंधित नहीं है।  
2, 6, 6, 10, 8, 12, 12, 15, 14, 18

- Ans  1. 12  
 2. 8  
 3. 18  
 4. 15

Question ID : 98958012028  
Status : Answered  
Chosen Option : 3

Q.3  
8 निम्नलिखित श्रृंखला में कौन-सी संख्या प्रश्नवाचक चिन्ह (?) को प्रतिस्थापित करेगी?  
3, ?, 101, 10202

- Ans  1. 95  
 2. 10  
 3. 99  
 4. 100

Question ID : 98958012030  
Status : Answered  
Chosen Option : 3

Q.3  
9 निम्नलिखित श्रृंखला में प्रश्नवाचक चिह्न (?) के स्थान पर कौन-सा अक्षर आएगा?  
C, F, K, R, A, ?

- Ans  1. M  
 2. I  
 3. L  
 4. J

Question ID : 98958012008  
Status : Answered  
Chosen Option : 3

Q.4  
0 निम्नलिखित संख्या-युग्म की दोनों संख्या जिस प्रकार एक-दूसरे से सम्बंधित हैं, उसी प्रकार का संबंध रखने वाले संख्या-युग्म का चयन कीजिए।  
343 : 512

Ans

- ✗ 1. 216 : 729  
 ✗ 2. 1009 : 1331  
 ✓ 3. 8 : 27  
 ✗ 4. 27 : 125

Question ID : 98958012033  
 Status : Answered  
 Chosen Option : 3

Q.4  
 1 दिए गए विकल्पों में से उस संख्या-समूह का चयन कीजिए जो निम्नलिखित संख्या-समूह के समान है।  
 (4, 24, 214)

- Ans ✗ 1. (3, 27, 81)  
 ✗ 2. (2, 26, 125)  
 ✗ 3. (8, 81, 721)  
 ✓ 4. (5, 35, 341)

Question ID : 98958012038  
 Status : Answered  
 Chosen Option : 4

Q.4  
 2 यदि A = 2 है और C = 4 है, तो PARTICLE = \_\_\_\_\_ है।

- Ans ✗ 1. 1621820104136  
 ✗ 2. 172172094136  
 ✓ 3. 1721921104136  
 ✗ 4. 172192094126

Question ID : 98958012025  
 Status : Answered  
 Chosen Option : 3

Q.4  
 3 निम्नलिखित चित्र में कितने त्रिकोण हैं?



- Ans ✗ 1. 19  
 ✗ 2. 24  
 ✗ 3. 20  
 ✓ 4. 21

Question ID : 98958012048  
 Status : Not Answered  
 Chosen Option : --

निम्नलिखित चार अक्षर-समूहों में से तीन किसी विशिष्ट सन्दर्भ में एक दूसरे के समान हैं और एक असमान है। असमान अक्षर-समूह का चयन कीजिए।

- Ans ☒ 1. SWYBE  
☒ 2. HKNQT  
☒ 3. QTWZC  
☒ 4. CFILO

Question ID : 98958012013  
Status : Answered  
Chosen Option : 1

Q.4 किसी कूट भाषा में, CERTAIN को DFSUBJO के रूप में लिखा जाता है तो उसी कूट भाषा में SUMMER को कैसे लिखा जाएगा?

- Ans ☒ 1. TUNMFS  
☒ 2. TVNNFS  
☒ 3. TVNNFT  
☒ 4. RVNNFS

Question ID : 98958012022  
Status : Answered  
Chosen Option : 2

Q.4 अर्जुन पूर्व दिशा में चलना शुरू करता है। 50 मीटर चलने के पश्चात वह अपनी बाईं ओर मुड़कर 15 मीटर चलता है। वहाँ से वह अपनी बाईं ओर मुड़कर 30 मीटर चलता है। अंततः, वह अंतिम बार अपनी बाईं ओर मुड़कर 15 मीटर चलता है। वह प्रारंभिक बिंदु से कितनी दूरी पर है?

- Ans ☒ 1. 10m  
☒ 2. 40m  
☒ 3. 20m  
☒ 4. 30m

Question ID : 98958012043  
Status : Answered  
Chosen Option : 3

Q.4 यदि कूट भाषा में WATER को XZUDS के रूप में लिखा जाता है, तब किस शब्द का कूट BMHKF होगा?

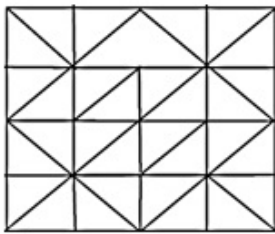
- Ans ☒ 1. CLING  
☒ 2. ALIEN  
☒ 3. ANGLE  
☒ 4. EARTH

Question ID : 98958012023  
Status : Answered  
Chosen Option : 3

Q.4  
8



उस विकल्प का चयन कीजिए जो दी गई आकृति में छिपी हुई है।



Ans

✓ 1.



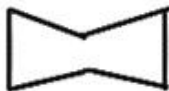
✗ 2.



✗ 3.



✗ 4.



Question ID : 98958012051

Status : Answered

Chosen Option : 1

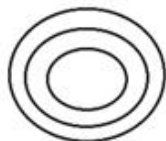
Q.4 उस वेन आरेख का चयन कीजिए जो निम्नलिखित श्रेणियों के बीच सही संबंध दर्शाता है।  
महिलाएं, माताएं, पिता

Ans

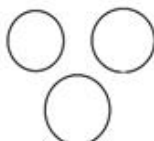
✓ 1.



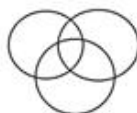
✗ 2.



✗ 3.



✗ 4.



Question ID : 98958012057

Status : Answered

Chosen Option : 1

Q.5 किसी कूट भाषा में, CADET को 31457 के रूप में लिखा जाता है, तो उसी कूट भाषा में DEFER को कैसे लिखा जा सकता है?

- Ans
- ☒ 1. 35658
  - ☒ 2. 45769
  - ☒ 3. 45659
  - ☒ 4. 45678

Question ID : 98958012024  
Status : Answered  
Chosen Option : 3

Q.5 निम्नलिखित शब्द कथन किसका है?

"सभी राष्ट्रों के लिए एक ध्वज आवश्यक है। इसके लिए लाखों लोग मारे गए हैं।"

- Ans
- ☒ 1. सरोजिनी नायडू
  - ☒ 2. जवाहर लाल नेहरू
  - ☒ 3. महात्मा गांधी
  - ☒ 4. भीकाजी कामा

Question ID : 98958011889  
Status : Not Answered  
Chosen Option : --

Q.5 विश्व का सबसे बड़ा क्रिकेट स्टेडियम भारत के किस राज्य में बनाया जा रहा है?

- Ans
- ☒ 1. पश्चिम बंगाल
  - ☒ 2. गुजरात
  - ☒ 3. चंडीगढ़
  - ☒ 4. महाराष्ट्र

Question ID : 98958011882  
Status : Not Answered  
Chosen Option : --

Q.5 किसे 'भारतीय परमाणु कार्यक्रम के जनक' के रूप में जाना जाता है?

- Ans
- ☒ 1. सी.वी.रमन
  - ☒ 2. ए.पी.जे.अब्दुल कलाम
  - ☒ 3. होमी जहांगीर भाभा
  - ☒ 4. विक्रम साराभाई

Question ID : 98958011893  
Status : Answered  
Chosen Option : 3

Q.5  
4 केन्या के \_\_\_\_\_ ने मुंबई मैराथन, 2019 जीती थी।

- Ans
- ☒ 1. आईच्यू बैटी
  - ☒ 2. बिरके देबले
  - ☒ 3. अकलनेव शूमेट
  - ☒ 4. कॉसमस लगट

Question ID : 98958011904  
Status : Not Answered  
Chosen Option : --

Q.5  
5 भारतीय आर्थिक सुधारों के जनक का नाम बताइए।

- Ans
- ☒ 1. पी.वी.नरसिम्हा राव
  - ☒ 2. नरेंद्र मोदी
  - ☒ 3. मनमोहन सिंह
  - ☒ 4. यशवंत सिन्हा

Question ID : 98958011863  
Status : Answered  
Chosen Option : 3

Q.5  
6 शिवाजी के उस पुत्र का नाम \_\_\_\_\_ था, जिसका जन्म सईबाई से हुआ था।

- Ans
- ☒ 1. शाहू
  - ☒ 2. बाजीराव
  - ☒ 3. संभाजी
  - ☒ 4. शाहजी

Question ID : 98958011886  
Status : Answered  
Chosen Option : 1

Q.5  
7 निर्धारण वर्ष 2019-20 से, ₹ 5,00,000 तक की वार्षिक आय वाले 80 वर्ष से अधिक आयु के भारतीय नागरिक द्वारा देय आयकर की दर क्या है?

- Ans
- ☒ 1. 20%
  - ☒ 2. 5%
  - ☒ 3. 0%
  - ☒ 4. 30%

Question ID : 98958011865  
Status : Answered  
Chosen Option : 3

Q.5 सम्पूर्ण हिमालयी क्षेत्र में पाये जाने वाले लम्बे बालों वाले स्तनधारियों का नाम क्या है?

- Ans
- ☒ 1. हाइफर
  - ☒ 2. बिसन
  - ☒ 3. याक
  - ☒ 4. बैल

Question ID : 98958011885

Status : Answered

Chosen Option : 3

Q.5 पहले संस्करण के अलावा, नई दिल्ली ने एशियाई खेलों के \_\_\_\_\_ संस्करण की भी मेजबानी की।

- Ans
- ☒ 1. 8वें
  - ☒ 2. 11वें
  - ☒ 3. 9वें
  - ☒ 4. 7वें

Question ID : 98958011907

Status : Not Answered

Chosen Option : --

Q.6 भारत के उपराष्ट्रपति के रूप में नियुक्ति के लिए न्यूनतम आयु कितनी होनी चाहिए?

- Ans
- ☒ 1. 30
  - ☒ 2. 21
  - ☒ 3. 35
  - ☒ 4. 25

Question ID : 98958011898

Status : Answered

Chosen Option : 3

Q.6 'Small is beautiful' पुस्तक लिखने वाले अर्थशास्त्री का नाम क्या है?

- Ans
- ☒ 1. अमर्त्य सेन
  - ☒ 2. कार्ल मार्क्स
  - ☒ 3. डेविड रिकार्डो
  - ☒ 4. ई एफ शूमाकर

Question ID : 98958011897

Status : Not Answered

Chosen Option : --

2 निम्नलिखित में से कौन सा जीव अपने शिकार को पकड़ने के लिए अल्ट्रासोनिक ध्वनि का उपयोग करता है?

- Ans ☒ 1. चमगादड़  
☒ 2. बाज  
☒ 3. कुत्ता  
☒ 4. बिल्ली

Question ID : 98958011870

Status : Answered

Chosen Option : 1

Q.6 छत्तीसगढ़ में \_\_\_\_\_ वाटरफॉल को भारत के नियागा फॉल्स के रूप में भी जानते हैं।

- Ans ☒ 1. हव्बे  
☒ 2. मागोद  
☒ 3. दूधसागर  
☒ 4. चित्रकूट

Question ID : 98958011883

Status : Answered

Chosen Option : 2

Q.6 \_\_\_\_\_ जनवरी 1950 से नवंबर 1951 तक भारत के मुख्य न्यायाधीश थे।

- Ans ☒ 1. बिजन कुमार मुखर्जी  
☒ 2. भुवनेश्वर प्रसाद सिन्हा  
☒ 3. मेहर चंद महाजन  
☒ 4. हरिलाल जेकिस्नुनदास कनिया

Question ID : 98958011903

Status : Answered

Chosen Option : 4

Q.6 मुहम्मद गोरी का पहला आक्रमण \_\_\_\_\_ में हुआ था, जब उसने मुल्तान पर हमला किया था।

- Ans ☒ 1. 1475 ई  
☒ 2. 1175 ई  
☒ 3. 1287 ई  
☒ 4. 1089 ई

Question ID : 98958011890

Status : Answered

Chosen Option : 3

Q.6  
6 गुरु \_\_\_\_\_ को चर्मकार संत के रूप में जाना जाता है।

- Ans
- ✓ 1. रविदास
  - ✗ 2. जीवा गोस्वामी
  - ✗ 3. अय्या वैकुंदर
  - ✗ 4. नरहरि

Question ID : 98958011861  
Status : Not Answered  
Chosen Option : --

Q.6  
7 किस क्रिकेट खिलाड़ी ने 16 वर्ष की आयु में कराची में अपने टेस्ट करियर की शुरुआत की थी?

- Ans
- ✗ 1. राहुल द्रविड़
  - ✗ 2. शान्ताकुमारन श्रीसंत
  - ✗ 3. हार्दिक पांड्या
  - ✓ 4. सचिन तेंदुलकर

Question ID : 98958011895  
Status : Answered  
Chosen Option : 4

Q.6  
8 भारत के संविधान के अनुच्छेद \_\_\_\_\_ के तहत, संसद के सदन की बैठक शुरू करने के लिए गणपूर्ति की संख्या सदन की कुल सदस्य संख्या का दसवां हिस्सा होती है।

- Ans
- ✗ 1. 101
  - ✓ 2. 100
  - ✗ 3. 102
  - ✗ 4. 103

Question ID : 98958011900  
Status : Answered  
Chosen Option : 4

Q.6  
9 नवकलेवर एक परंपरा है जो \_\_\_\_\_ के मंदिर में होता है।

- Ans
- ✓ 1. जगन्नाथ पुरी
  - ✗ 2. सबरीमाला
  - ✗ 3. तिरुपति
  - ✗ 4. शिरडी

Question ID : 98958011860  
Status : Not Answered  
Chosen Option : --

Q.7  
0 भारत के सर्वोच्च न्यायालय का उद्घाटन सत्र \_\_\_\_\_ को हुआ था।

- Ans
- ☒ 1. 29 जनवरी, 1950
  - ☒ 2. 28 जनवरी, 1950
  - ☒ 3. 31 जनवरी, 1950
  - ☒ 4. 26 जनवरी, 1950

Question ID : 98958011902  
Status : Answered  
Chosen Option : 4

Q.7  
1 'The Audacity of Hope' पुस्तक किसने लिखी है?

- Ans
- ☒ 1. बिल क्लिंटन
  - ☒ 2. जार्ज बुश
  - ☒ 3. बराक ओबामा
  - ☒ 4. बिल गेट्स

Question ID : 98958011896  
Status : Not Answered  
Chosen Option : --

Q.7  
2 1927 में मंदिर प्रवेश आंदोलन किसने शुरू किया था?

- Ans
- ☒ 1. भीमराव अंबेडकर
  - ☒ 2. महात्मा गांधी
  - ☒ 3. मेधा पाटकर
  - ☒ 4. विनोबा भावे

Question ID : 98958011887  
Status : Answered  
Chosen Option : 1

Q.7  
3 नेहरू-लियाकत समझौता पर वर्ष \_\_\_\_\_ में हस्ताक्षर किए गए थे।

- Ans
- ☒ 1. 1948
  - ☒ 2. 1950
  - ☒ 3. 1949
  - ☒ 4. 1947

Question ID : 98958011888  
Status : Answered  
Chosen Option : 4



Q.7  
4 'कैनिस ल्यूपस' को आमतौर पर \_\_\_\_\_ के रूप में जाना जाता है।

- Ans
- ☒ 1. गाय
  - ☒ 2. ग्रे वॉल्फ
  - ☒ 3. मुर्गी
  - ☒ 4. बकरा

Question ID : 98958011875  
Status : Not Answered  
Chosen Option : --

Q.7  
5 'मेगापटेरा नोवाइंगलियाए' को सामान्यता \_\_\_\_\_ रूप में जाना जाता है।

- Ans
- ☒ 1. अफ्रीकी जंगली बिल्ली
  - ☒ 2. हंपबैक व्हेल
  - ☒ 3. ट्री फ्रॉग
  - ☒ 4. भंवरा

Question ID : 98958011869  
Status : Not Answered  
Chosen Option : --

Q.7  
6 भारत की मुद्रा मुद्रण प्रैस \_\_\_\_\_ में स्थित नहीं है।

- Ans
- ☒ 1. कोच्चि
  - ☒ 2. मैसूर
  - ☒ 3. सालबोनी
  - ☒ 4. देवास

Question ID : 98958011867  
Status : Answered  
Chosen Option : 4

Q.7  
7 1994 के बाद, सामान्यता एक वर्ष में राज्यसभा के कितने सत्र आयोजित किए जाते हैं?

- Ans
- ☒ 1. छह
  - ☒ 2. दो
  - ☒ 3. तीन
  - ☒ 4. चार

Question ID : 98958011901  
Status : Answered  
Chosen Option : 3

Q.7

8 \_\_\_\_\_ को 'भारतीय पक्षीविज्ञान के जनक' के रूप में जाना जाता है।

Ans

- ☒ 1. जॉन जेम्स ऑडबोन
- ☒ 2. एलन ऑक्टेवियन ह्यूम
- ☒ 3. कोनराड लोरेन्ज
- ☒ 4. सलीम अली

Question ID : 98958011868

Status : Answered

Chosen Option : 4

Q.7 नासा ने तमिलनाडु से 18 वर्षीय \_\_\_\_\_ और उसकी टीम द्वारा आविष्कार किए गए विश्व के सबसे छोटे और हल्के सेटेलाइट 'कलामसेट' को 22 जून 2017 को लॉन्च किया था।

Ans

- ☒ 1. शाहरुक़ राशिद
- ☒ 2. रिफत शारूक
- ☒ 3. सलमान रशीद
- ☒ 4. खुर्शीद रिफत

Question ID : 98958011877

Status : Not Answered

Chosen Option : --

Q.8 जनवरी 2018 तक गाय के दूध के उत्पादन में भारत का \_\_\_\_\_ स्थान था।

Ans

- ☒ 1. दूसरा
- ☒ 2. चौथा
- ☒ 3. पहला
- ☒ 4. तीसरा

Question ID : 98958011866

Status : Answered

Chosen Option : 3

Q.8 भारत की सर्वश्रेष्ठ बैडमिंटन खिलाड़ी और रियो ओलंपिक में रजत पदक विजेता \_\_\_\_\_ को विश्व में सबसे अधिक कमाई करने वाली महिला खिलाड़ियों की फोर्ब्स सूची 2018 में सातवाँ स्थान दिया गया है।

Ans

- ☒ 1. पीवी सिंधु
- ☒ 2. सानिया मिर्जा
- ☒ 3. संतोष यादव
- ☒ 4. साइना नेहवाल

Question ID : 98958011905

Status : Answered

Chosen Option : 1

Q.8 \_\_\_\_\_ के बीच की वार्षिक आय वाले वयस्क प्रधानमंत्री आवास योजना के अंतर्गत आवास ऋण प्राप्त कर सकते हैं।  
2

- Ans
- ☒ 1. 6 और 15 लाख
  - ☒ 2. 6 और 21 लाख
  - ☒ 3. 6 और 25 लाख
  - ☒ 4. 6 और 18 लाख

Question ID : 98958011864  
Status : Answered  
Chosen Option : 1

Q.8 नृत्य रूप 'डांडिया' का \_\_\_\_\_ से संबंध है।  
3

- Ans
- ☒ 1. गणेश चतुर्थी
  - ☒ 2. नवरात्रि
  - ☒ 3. ओणम
  - ☒ 4. बिहु

Question ID : 98958011862  
Status : Answered  
Chosen Option : 2

Q.8 'कैप्रा एगैग्रस हिरकस' को आमतौर पर \_\_\_\_\_ के रूप में जाना जाता है।  
4

- Ans
- ☒ 1. कुत्ता
  - ☒ 2. बकरा
  - ☒ 3. गाय
  - ☒ 4. मुर्गी

Question ID : 98958011876  
Status : Not Answered  
Chosen Option : --

Q.8 स्वतंत्रता दिवस पर लाल किले पर राष्ट्रीय ध्वज कौन फहराता है?  
5

- Ans
- ☒ 1. मुख्य न्यायाधीश
  - ☒ 2. राज्यपाल
  - ☒ 3. प्रधानमंत्री
  - ☒ 4. राष्ट्रपति

Question ID : 98958011899  
Status : Answered  
Chosen Option : 3

Q.8  
6 किस तापमान पर लोहा पिघलता है?

- Ans
- ☒ 1. 1638° सेल्सियस
  - ☒ 2. 1683° सेल्सियस
  - ☒ 3. 1538° सेल्सियस
  - ☒ 4. 1583° सेल्सियस

Question ID : 98958011873  
Status : Not Answered  
Chosen Option : --

Q.8  
7 1905 में सर्वेट्स ऑफ़ इंडिया सोसाइटी की स्थापना किसने की थी?

- Ans
- ☒ 1. गोपाल कृष्ण गोखले
  - ☒ 2. ऐनी बेसेंट
  - ☒ 3. राजा राम मोहन राय
  - ☒ 4. सैय्यद अहमद खान

Question ID : 98958011891  
Status : Answered  
Chosen Option : 1

Q.8  
8 स्वतंत्रता पूर्व भारत में, वर्ष \_\_\_\_\_ में ब्रिटिशों ने भारत की राजधानी कलकत्ता को दिल्ली स्थानांतरित कर दिया।

- Ans
- ☒ 1. 1913
  - ☒ 2. 1911
  - ☒ 3. 1924
  - ☒ 4. 1921

Question ID : 98958011881  
Status : Answered  
Chosen Option : 2

Q.8  
9 जनवरी 2019 में, नासा के ट्रांसिटिंग एक्सोप्लेनेट सर्वे सैटेलाइट (TESS) ने \_\_\_\_\_ तारामंडल में HD 21749b नामक अपने तीसरे छोटे एक्सोप्लेनेट की खोज की थी।

- Ans
- ☒ 1. अन्टिला
  - ☒ 2. लैसेर्टा
  - ☒ 3. रेटीक्यूलम
  - ☒ 4. ल्यूपस

Question ID : 98958011878  
Status : Not Answered  
Chosen Option : --

Q.9  
0

25 डिग्री सेल्सियस पर शुद्ध पानी (H<sub>2</sub>O) का pH \_\_\_\_\_ है।

- Ans
- ☒ 1. 8
  - ☒ 2. 7
  - ☒ 3. 9
  - ☒ 4. 6

Question ID : 98958011879  
Status : Answered  
Chosen Option : 2

Q.9 निम्नलिखित खेलों में से कौनसा खेल देवधर ट्रॉफी से संबंधित है?

- Ans
- ☒ 1. गोल्फ
  - ☒ 2. हॉकी
  - ☒ 3. क्रिकेट
  - ☒ 4. फुटबॉल

Question ID : 98958011906  
Status : Answered  
Chosen Option : 3

Q.9 निम्नलिखित में से हिंदुस्तानी शास्त्रीय संगीत का प्रसिद्ध घराना (शैलियाँ) कौन सा विकल्प नहीं है?

- Ans
- ☒ 1. पटियाला घराना
  - ☒ 2. मेवाती घराना
  - ☒ 3. ग्वालियर घराना
  - ☒ 4. रजवाड़ी घराना

Question ID : 98958011858  
Status : Answered  
Chosen Option : 2

Q.9 भारतीय मूल की सुप्रसिद्ध अंतरिक्ष यात्री सुनीता विलियम्स ने अंतरिक्ष में रिकार्ड \_\_\_\_\_ दिन बिताये थे।

- Ans
- ☒ 1. 150
  - ☒ 2. 175
  - ☒ 3. 195
  - ☒ 4. 200

Question ID : 98958011892  
Status : Answered  
Chosen Option : 3

Q.9 लोहा लगभग \_\_\_\_\_ डिग्री सेल्सियस पर उबलता है।

Ans

- ☒ 1. 3182  
☒ 2. 3861  
☒ 3. 2861  
☒ 4. 2181

Question ID : 98958011874  
Status : Not Answered  
Chosen Option : --

Q.9 एक प्रतिष्ठित विज्ञापन एजेंसी के प्रमुख के रूप में, \_\_\_\_\_ ने सर्फ डिटर्जेंट, लिरिल बाथ सोंप, बजाज स्कूटर और चेरी ब्लॉसम शू पॉलिश के लिए प्रतिष्ठित विज्ञापन बनाए।

- Ans ☒ 1. एलिक पदमसी  
☒ 2. प्रल्हाद कक्कड़  
☒ 3. गार्सन दा कुन्हा  
☒ 4. प्रसून जोशी

Question ID : 98958011894  
Status : Not Answered  
Chosen Option : --

Q.9 वर्ष \_\_\_\_\_ में कलकत्ता ब्रिटिश भारत की राजधानी बना।

- Ans ☒ 1. 1756  
☒ 2. 1765  
☒ 3. 1772  
☒ 4. 1727

Question ID : 98958011880  
Status : Answered  
Chosen Option : 3

Q.9 ध्वनि \_\_\_\_\_ से नहीं गुजर सकती है।

- Ans ☒ 1. मिट्टी  
☒ 2. पानी  
☒ 3. आग  
☒ 4. खाली स्थान

Question ID : 98958011871  
Status : Answered  
Chosen Option : 4

Q.9 चिपको आंदोलन निम्नलिखित से संबंधित है:

- Ans ☒ 1. सार्वजनिक जीवन में पारदर्शिता

☒ 2. संतुलित विकास

☒ 3. पेड़ों को कटने से बचाने के लिए

☒ 4. वन-रोपण

Question ID : 98958011872

Status : Answered

Chosen Option : 3

Q.9 गिनीज वर्ल्ड रिकॉर्ड्स के अनुसार, 2011 में दुनिया का सबसे अमीर मंदिर निम्नलिखित में से कौन सा था?

Ans

☒ 1. जगन्नाथ मंदिर

☒ 2. तिरुमाला तिरुपति वेंकटेश्वर मंदिर

☒ 3. सिद्धिविनायक मंदिर

☒ 4. श्री पद्मनाभस्वामी मंदिर

Question ID : 98958011859

Status : Answered

Chosen Option : 2

Q.1 भूमि क्षेत्रफल के हिसाब से दुनिया का सातवाँ सबसे बड़ा देश कौनसा है?

Ans

☒ 1. अर्जेंटीना

☒ 2. ऑस्ट्रेलिया

☒ 3. ब्राज़ील

☒ 4. इंडिया

Question ID : 98958011884

Status : Answered

Chosen Option : 4

Q.1 एक ग्राहक को ₹90 की छूट मिलती है, जो कि 12% है। उस वस्तु का विक्रय मूल्य है:

Ans

☒ 1. ₹770

☒ 2. ₹540

☒ 3. ₹660

☒ 4. ₹580

Question ID : 98958012217

Status : Answered

Chosen Option : 3

Q.1 एक लड़का एक खंभे के पास खड़ा है जो 2.7 m ऊंचा है और उन्नयन कोण  $30^\circ$  है। खंभे से लड़के की दूरी है ( $\sqrt{3} = 1.73$ ):

Ans

☒ 1. 4.68 m



☒ 2. 4.53 m

☒ 3. 4.63 m

☒ 4. 4.42 m

Question ID : 98958012248

Status : Answered

Chosen Option : 1

Q.1 यदि सिलेंडर की सामग्री का वजन  $8 \text{ gm/cm}^3$  हो तो 35 cm ऊंचाई और 14 cm त्रिज्या वाले ठोस सिलेंडर का वजन ज्ञात करें।

Ans ☒ 1. 166 kg

☒ 2. 177.44 kg

☒ 3. 160 kg

☒ 4. 172.48 kg

Question ID : 98958012235

Status : Answered

Chosen Option : 4

Q.1 पाइप A, 4 घंटे में एक हौज भर सकता है और दूसरा पाइप B लगाया गया है। दोनों पाइप एक साथ  $2\frac{1}{2}$  घंटे में हौज को भरते हैं। हौज को भरने के लिए अकेले B को कितना समय लगेगा?

Ans ☒ 1.  $6\frac{3}{8}$  घंटे

☒ 2.  $6\frac{2}{3}$  घंटे

☒ 3.  $5\frac{1}{6}$  घंटे

☒ 4. 5 घंटे

Question ID : 98958012230

Status : Answered

Chosen Option : 2

Q.1 ₹124 का कितना प्रतिशत ₹49.60 होता है?

Ans ☒ 1. 16

☒ 2. 40

☒ 3. 123

☒ 4. 250

Question ID : 98958012220

Status : Answered

Chosen Option : 2

Q.1 यदि 10% प्रति वर्ष, अर्धवार्षिक-संयोजित,  $1\frac{1}{2}$  वर्ष का चक्रवृद्धि ब्याज ₹2,522 है तो मूलधन राशि है:

Ans ☒ 1. ₹20,000

☒ 2. ₹18,500

☒ 3. ₹16,000

☒ 4. ₹15,400

Question ID : 98958012226

Status : Answered

Chosen Option : 3

Q.1  
07 8% साधारण ब्याज पर एक राशि कितने समय में दोगुनी होगी?

Ans ☒ 1. 12.5 वर्ष

☒ 2. 5 वर्ष

☒ 3. 6 वर्ष

☒ 4. 8 वर्ष

Question ID : 98958012225

Status : Answered

Chosen Option : 1

Q.1  
08 3 m भुजा वाले वर्गाकार कार्ड बोर्ड को उसके एक विकर्ण पर मोड़कर त्रिभुज बनाया गया है। त्रिभुज की ऊँचाई है:

Ans ☒ 1.  $\frac{2}{\sqrt{3}}$  m

☒ 2.  $\frac{3}{\sqrt{2}}$  m

☒ 3.  $2\sqrt{3}$  m

☒ 4.  $3\sqrt{2}$  m

Question ID : 98958012244

Status : Answered

Chosen Option : 2

Q.1  
09  $\frac{14-6 \times 2}{15 \div 3 + 3}$  बराबर है:

Ans ☒ 1. 2

☒ 2.  $\frac{4}{5}$

☒ 3.  $\frac{1}{4}$

☒ 4.  $6\frac{2}{5}$

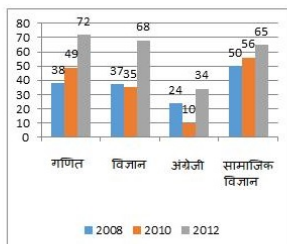
Question ID : 98958012212

Status : Answered

Chosen Option : 3

Q.1  
10

दिया गया दंड-चार्ट (bar-chart), तीन वर्षों में एक विद्यार्थी द्वारा प्रत्येक विषय में प्राप्त किए गए अंकों को दर्शाता है:



दिए गए दंड-चार्ट (bar-chart) में, 2008 की तुलना से 2012 में, गणित के अंकों में कितने प्रतिशत वृद्धि हुई? (पूर्णांक में)

- Ans
- ✗ 1. 92
  - ✗ 2. 95
  - ✗ 3. 100
  - ✓ 4. 89

Question ID : 98958012250

Status : Answered

Chosen Option : 4

Q.1 एक नल 3 घंटे में एक टैंक भर सकता है और एक रिसाव 5 घंटे में टैंक खाली कर सकता है। यदि नल और रिसाव 11 (जो आधा बंद था) को खुला छोड़ दिया जाता है, तो टैंक को भरने में कितना समय लगेगा?

- Ans
- ✓ 1.  $4\frac{2}{7}$  घंटे
  - ✗ 2.  $7\frac{1}{2}$  घंटे
  - ✗ 3.  $5\frac{1}{3}$  घंटे
  - ✗ 4.  $6\frac{2}{3}$  घंटे

Question ID : 98958012229

Status : Answered

Chosen Option : 2

Q.1 यदि  $5\cos\theta - 12\sin\theta = 0$  है, तो  $\frac{2\sin\theta + \cos\theta}{\cos\theta - \sin\theta}$  का मान है:

- Ans
- ✗ 1.  $1\frac{75}{119}$
  - ✗ 2.  $2\frac{34}{35}$
  - ✗ 3.  $3\frac{2}{3}$
  - ✓ 4.  $3\frac{1}{7}$

Question ID : 98958012245

Status : Answered

Chosen Option : 4

Q.1 केंद्र O वाले एक वृत्त के बाहर किसी बिंदु P से खींची गई दो स्पर्श रेखाएँ PA और PB हैं। A और B वृत्त पर बिंदु 13 हैं। यदि  $\angle OAB = 35^\circ$  है, तो  $\angle APB$  बराबर है:

- Ans ☒ 1.  $70^\circ$   
☒ 2.  $25^\circ$   
☒ 3.  $35^\circ$   
☒ 4.  $20^\circ$

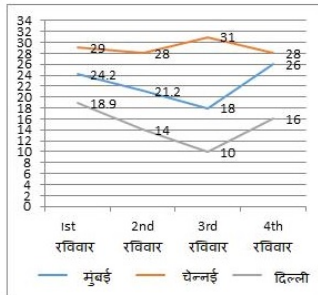
Question ID : 98958012242  
 Status : Answered  
 Chosen Option : 1

Q.1 एक रेलगाड़ी 76 km/h की गति से चलती है। यदि यह 36 सेकंड में एक खंभे को पार करती है, तो रेलगाड़ी की लंबाई है :

- Ans ☒ 1. 720 m  
☒ 2. 675 m  
☒ 3. 760 m  
☒ 4. 630 m

Question ID : 98958012231  
 Status : Answered  
 Chosen Option : 3

Q.1 रेखा-चित्र (line graph), तीन शहरों के चार रविवार के तापमान को दर्शाता है।



दिए गए रेखा-चित्र (line graph) में, दूसरे रविवार को दिल्ली और मुंबई के बीच तापमान में अंतर क्या था?

- Ans ☒ 1. 21  
☒ 2. 13  
☒ 3. 17.2  
☒ 4. 7.2

Question ID : 98958012257  
 Status : Answered  
 Chosen Option : 4

Q.1 एक कक्षा के छात्रों ने राहत कोष में ₹3,481 दान दिए। प्रत्येक छात्र ने कक्षा में छात्रों की संख्या के बराबर राशि दान की। कक्षा में छात्रों की संख्या है:

- Ans ☒ 1. 61  
☒ 2. 51  
☒ 3. 49  
☒ 4. 59

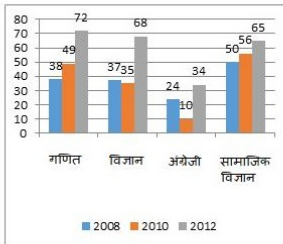
Question ID : 98958012208

Q.1 एक मीनार की छाया, सूर्य के उन्नयन कोण  $60^\circ$  होने पर, सूर्य के उन्नयन कोण  $45^\circ$  होने पर प्राप्त होने वाली  
17 मीनार की छाया से 15 m छोटी पाई जाती है। मीनार की ऊँचाई है:

- Ans
- ☒ 1. 41.5 m
  - ☒ 2. 26.5 m
  - ☒ 3. 20.5 m
  - ☒ 4. 35.5 m

Question ID : 98958012247  
Status : **Answered**  
Chosen Option : 3

Q.1 दिया गया दंड-चार्ट (bar-chart), तीन वर्षों में एक विद्यार्थी द्वारा प्रत्येक विषय में प्राप्त किए गए अंकों को दर्शाता है:  
18



दिए गए दंड-चार्ट (bar-chart) में, यदि वर्ष 2012 में सामाजिक अध्ययन में अंकों की संख्या विद्यालय की संख्या का 13% है, तो विद्यार्थियों की संख्या है:

- Ans
- ☒ 1. 500
  - ☒ 2. 580
  - ☒ 3. 540
  - ☒ 4. 400

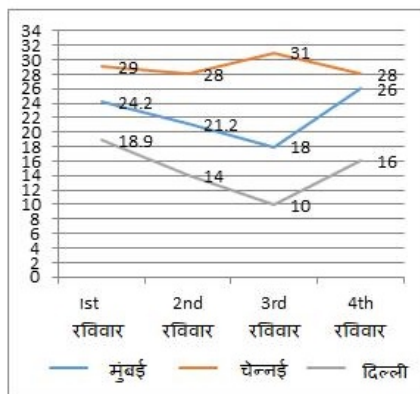
Question ID : 98958012251  
Status : **Answered**  
Chosen Option : 1

Q.1 तीन साझेदार A, B और C, 3 : 4 : 7 के अनुपात में लाभ और हानि साझा करते हैं। यदि 30% कर लगाने से पहले  
19 वर्ष का लाभ ₹1,10,166 है तो कर के बाद B के हिस्से का लाभ क्या है?

- Ans
- ☒ 1. ₹24,673.10
  - ☒ 2. ₹31,476
  - ☒ 3. ₹9,442.80
  - ☒ 4. ₹22,033.20

Question ID : 98958012224  
Status : **Answered**  
Chosen Option : 4

रेखा-चित्र (line graph), तीन शहरों के चार रविवार के तापमान को दर्शाता है।



दिए गए रेखा-चित्र (line graph) में, दिल्ली में दर्ज अधिकतम तापमान कब था?

- Ans
- ☒ 1. तीसरे रविवार
  - ☒ 2. दूसरे रविवार
  - ☒ 3. पहले रविवार
  - ☒ 4. चौथे रविवार

Question ID : 98958012255

Status : Answered

Chosen Option : 3

Q.1  
21  $(24 \div 6 - 2) + (3 \times 2 + 4)$  बराबर है:

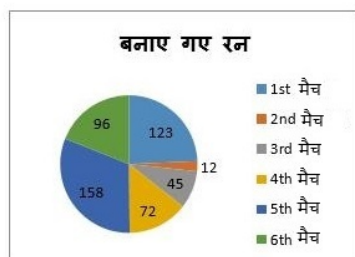
- Ans
- ☒ 1. 12
  - ☒ 2. 24
  - ☒ 3. 16
  - ☒ 4. 20

Question ID : 98958012213

Status : Answered


Chosen Option : 1

Q.1  
22 दिया गया वृत्त-चार्ट (pie-chart), A द्वारा 6 मैच में स्कोर किए गए रनों को दर्शाता है।



दिए गए वृत्त-चार्ट (pie-chart) में, सभी मैच में बनाए गए रनों का औसत क्या है? (पूर्णांक में)

- Ans
- ☒ 1. 85
  - ☒ 2. 88

 3. 90

 4. 84

Question ID : 98958012252

Status : Answered

Chosen Option : 4

Q.1 यदि  $(2x-5)^3 + (x+2)^3 + (3x-9)^3 = (2x-5)(3x-9)(3x+6)$  है, तो  $x$  का मान क्या होगा?

Ans  1. 7

 2. 5

 3. 2

 4. 18


Question ID : 98958012238


Status : Answered


Chosen Option : 3

Q.1 A एक कार्य को 12 दिनों में कर सकता है और B उसी कार्य को 18 दिनों में कर सकता है। 5 दिन तक एक साथ काम करने के बाद, कितना काम बाकी रह जाएगा?

Ans  1.  $\frac{5}{12}$

 2.  $\frac{7}{25}$

 3.  $\frac{5}{13}$

 4.  $\frac{11}{36}$


Question ID : 98958012227

Status : Answered

Chosen Option : 4

Q.1 21 से 50 के बीच सभी अभाज्य संख्याओं का औसत है (एक दशमलव संख्या में पूर्णांक करें):

Ans  1. 34.8

 2. 32.9

 3. 35.9

 4. 33.7


Question ID : 98958012215

Status : Answered

Chosen Option : 3

Q.1 यदि एक हवाई जहाज 35 मिनट में 980 km की दूरी तय करता है, तो वह 1470 km की दूरी तय करने में कितना समय लेगा।

Ans  1.  $1\frac{1}{8}$  घंटे

 2.  $\frac{1}{2}$  घंटा



✓ 3.  $\frac{7}{8}$  घंटा

✗ 4.  $1\frac{1}{6}$  घंटे

Question ID : 98958012232

Status : Answered

Chosen Option : 3

Q.1  
27 संख्या 45789, एक अंक की कौन-सी संख्या से विभाज्य है:

Ans ✓ 1. केवल 3 से

✗ 2. केवल 3 और 9 से

✗ 3. केवल 9 से

✗ 4. केवल 3 और 7 से

Question ID : 98958012209

Status : Answered

Chosen Option : 1

Q.1  
28  $\sin 18^\circ - \cos 72^\circ$  बराबर है:

Ans ✗ 1. 1

✗ 2. 2

✓ 3. 0

✗ 4.  $\frac{1}{2}$

Question ID : 98958012246

Status : Answered

Chosen Option : 3

Q.1  
29 प्रतिशत में परिवर्तित  $\frac{64}{25}$  है:

Ans ✗ 1. 2.56

✓ 2. 256

✗ 3. 0.256

✗ 4. 25.6

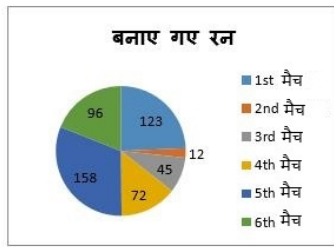
Question ID : 98958012219

Status : Answered

Chosen Option : 2

Q.1  
30

दिया गया वृत्त-चार्ट (pie-chart), A द्वारा 6 मैच में स्कोर किए गए रनों को दर्शाता है।



दिए गए वृत्त-चार्ट (pie-chart) में, मैच 2 की तुलना में मैच 4 में स्कोर में कितनी वृद्धि या कमी है?

- Ans
- ✗ 1. -60
  - ✗ 2. +27
  - ✗ 3. -27
  - ✓ 4. +60

Question ID : 98958012253

Status : Answered

Chosen Option : 4

Q.1 7 m लंबाई, 5 m चौड़ाई और 3.5 m ऊंचाई वाले आयताकार कमरे की चार दीवारों की भीतरी सतह का क्षेत्रफल ज्ञात करें।

- Ans
- ✓ 1. 84 m<sup>2</sup>
  - ✗ 2. 168 m<sup>2</sup>
  - ✗ 3. 42 m<sup>2</sup>
  - ✗ 4. 126 m<sup>2</sup>

Question ID : 98958012233

Status : Answered

Chosen Option : 1

Q.1 दिन के एक निश्चित समय में 5.4 m ऊँचे एक पेड़ की परछाई 9 m होती है। यदि उसी समय एक खंभे की परछाई 13.5 m होती है तो खंभे की ऊँचाई है:

- Ans
- ✗ 1. 7.2 m
  - ✗ 2. 9.9 m
  - ✗ 3. 6.3 m
  - ✓ 4. 8.1 m

Question ID : 98958012223

Status : Answered

Chosen Option : 4

Q.1 A, अपनी आय की 12% राशि बचत करती है। यदि वह ₹2,16,128 खर्च करती है, तो उसकी कुल आय है:

- Ans
- ✗ 1. ₹2,43,560
  - ✗ 2. ₹2,42,063
  - ✓ 3. ₹2,45,600

✗ 4. ₹2,48,000

Question ID : 98958012221

Status : Answered

Chosen Option : 3

Q.1 11.28 m<sup>2</sup> के क्षेत्र को रंगने के लिए एक डिब्बे में पर्याप्त रंग है। इस डिब्बे से 30 cm x 25 cm x 12 cm के आयाम वाले कितने बक्सों को रंगा जा सकता है?

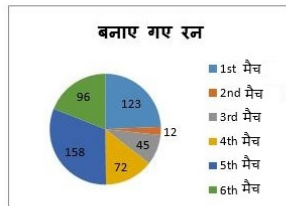
- Ans
- ✗ 1. 12
  - ✗ 2. 32
  - ✓ 3. 40
  - ✗ 4. 24

Question ID : 98958012234

Status : Not Answered

Chosen Option : --

Q.1 दिया गया वृत्त-चार्ट (pie-chart), A द्वारा 6 मैच में स्कोर किए गए रनों को दर्शाता है।



दिए गए वृत्त-चार्ट (pie-chart) में, यदि A ने मैच 4 तथा मैच 6 में शतक बनाया होता तो उसके औसत स्कोर कितने होते?

- Ans
- ✗ 1. 91.2
  - ✓ 2. 89.7
  - ✗ 3. 84.5
  - ✗ 4. 93.4

Question ID : 98958012254

Status : Answered

Chosen Option : 4

Q.1 ABCD एक चक्रीय चतुर्भुज है जिसमें AB इस पर बने वृत्त का एक व्यास है और कोण  $\angle ADC = 142^\circ$  है तो कोण  $\angle BAC$  बराबर है:

- Ans
- ✗ 1.  $50^\circ$
  - ✗ 2.  $40^\circ$
  - ✗ 3.  $60^\circ$
  - ✓ 4.  $52^\circ$

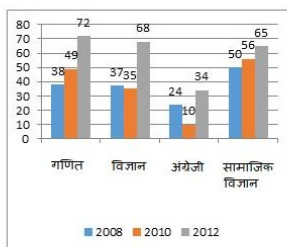
Question ID : 98958012241

Status : Answered

Chosen Option : 4

Q.1  
37

दिया गया दंड-चार्ट (bar-chart), तीन वर्षों में एक विद्यार्थी द्वारा प्रत्येक विषय में प्राप्त किए गए अंको को दर्शाता है:



दिए गए दंड-चार्ट (bar-chart) में, वर्ष 2010 में किस विषय में सबसे कम अंक प्राप्त हुए?

- Ans
- ☒ 1. सामाजिक विज्ञान
  - ☒ 2. अंग्रेजी
  - ☒ 3. विज्ञान
  - ☒ 4. गणित

Question ID : 98958012249

Status : Answered

Chosen Option : 2

Q.1 A, B और C एक बिंदु से एक साथ चलना शुरू करते हैं। उनके कदम क्रमशः 42 cm, 56 cm और 64 cm हैं।  
38 वे न्यूनतम कितनी दूरी तय करे ताकि प्रत्येक के कदमों की संख्या पूर्णांक हो?

- Ans
- ☒ 1. 15.60 m
  - ☒ 2. 14.06 m
  - ☒ 3. 14.58 m
  - ☒ 4. 13.44 m

Question ID : 98958012211

Status : Not Answered

Chosen Option : --

Q.1 दो संख्याओं के म. स. (HCF) और ल. स. (LCM) का गुणनफल 3321 है। यदि संख्याओं में से एक 369 है, तो  
39 संख्याओं का म. स. (HCF) है:

- Ans
- ☒ 1. 27
  - ☒ 2. 3
  - ☒ 3. 21
  - ☒ 4. 9

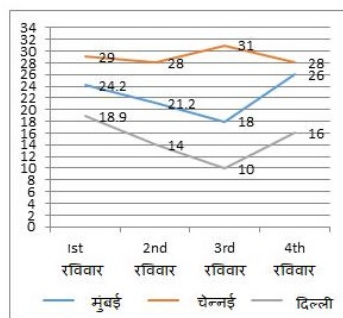
Question ID : 98958012210

Status : Answered

Chosen Option : 4

Q.1  
40

रेखा-चित्र (line graph), तीन शहरों के चार रविवार के तापमान को दर्शाता है।



दिए गए रेखा-चित्र (line graph) में, तीसरे रविवार को सभी तीन शहरों में औसत तापमान क्या था?

(प्रथम दशमलव में पूर्णांकित)

- Ans
- ☒ 1. 24
  - ☒ 2. 25.4
  - ☒ 3. 19.7
  - ☒ 4. 23

Question ID : 98958012256

Status : Not Answered

Chosen Option : --

Q.1 यदि  $a^3 - b^3 = 208$  तथा  $a - b = 8$ , तो  $(a + b)^2 - ab$  बराबर है:

- Ans
- ☒ 1. 42
  - ☒ 2. 52
  - ☒ 3. 26
  - ☒ 4. 38

Question ID : 98958012240

Status : Not Answered

Chosen Option : --

Q.1 A और B एक काम को 30 दिनों में पूरा कर सकते हैं। B और C उसी काम को 24 दिनों में पूरा कर सकते हैं और A और C मिलकर उसी काम को 40 दिनों में पूरा कर सकते हैं। यदि तीनों एक साथ काम करते हैं, तो उन्हें काम पूरा करने में कितना समय लगेगा?

- Ans
- ☒ 1. 10 दिन
  - ☒ 2. 20 दिन
  - ☒ 3. 5 दिन
  - ☒ 4. 15 दिन

Question ID : 98958012228

Status : Not Answered

Chosen Option : --

Q.1 यदि  $x - \frac{1}{x} = 3\sqrt{2}$  है, तो  $x^2 + \frac{1}{x^2}$  बराबर है:

Ans

- ☒ 1. 56
- ☒ 2. 52
- ☒ 3. 20
- ☒ 4. 46

Question ID : 98958012239  
Status : Not Answered  
Chosen Option : --

Q.1 A, ने ₹54.50/kg की दर से 38 kg चावल, ₹62/kg की दर से 45 kg चावल और ₹48/kg की दर से 55 kg चावल  
44 खरीदे। उसने चावलों के मिश्रण को ₹65/kg की दर से बेच दिया। उसके लाभ अथवा हानि का प्रतिशत है:

- Ans ☒ 1. 1.7 हानि
- ☒ 2. 16.8 लाभ
- ☒ 3. 1.04 हानि
- ☒ 4. 19.6 लाभ

Question ID : 98958012222  
Status : Not Answered  
Chosen Option : --

Q.1 एक समानांतर चतुर्भुज का क्षेत्रफल 338 m<sup>2</sup> है। यदि इसकी ऊँचाई संगत आधार से दुगुनी है तो इसका आधार है:  
45

- Ans ☒ 1. 14
- ☒ 2. 28
- ☒ 3. 13
- ☒ 4. 26

Question ID : 98958012237  
Status : Not Answered  
Chosen Option : --

Q.1 यदि 4 कुर्सियों का लागत मूल्य 3 कुर्सियों के विक्रय मूल्य के समान है, तो लाभ अथवा हानि % (प्रतिशत) है:  
46

- Ans ☒ 1.  $16\frac{2}{3}\%$
- ☒ 2.  $33\frac{1}{3}\%$
- ☒ 3. 20%
- ☒ 4. 25%

Question ID : 98958012218  
Status : Not Answered  
Chosen Option : --

Q.1 एक घन का सतह क्षेत्रफल 1176 cm<sup>2</sup> है, तो इसके आयतन का मान है:  
47

- Ans ☒ 1. 3486 cm<sup>3</sup>

☒ 2.  $3964 \text{ cm}^3$

☒ 3.  $2744 \text{ cm}^2$

☒ 4.  $3206 \text{ cm}^3$

Question ID : 98958012236

Status : Not Answered

Chosen Option : --

Q.1 48 एक समद्विबाहु त्रिभुज का आधार 6 cm है और इसकी परिधि 16 cm है। इसका क्षेत्रफल है:

Ans ☒ 1.  $11 \text{ cm}^2$

☒ 2.  $10 \text{ cm}^2$

☒ 3.  $12 \text{ cm}^2$

☒ 4.  $9 \text{ cm}^2$

Question ID : 98958012243

Status : Not Answered

Chosen Option : --

Q.1 49 एक कक्षा के 12 छात्रों की औसत ऊँचाई 132.5 cm है। यदि एक और छात्र जुड़ता है, तो औसत ऊँचाई 131.2 cm हो जाती है, नए छात्र की ऊँचाई है:

Ans ☒ 1. 128.5 cm

☒ 2. 112.7 cm

☒ 3. 122.3 cm

☒ 4. 115.6 cm

Question ID : 98958012216

Status : Not Answered

Chosen Option : --

Q.1 50 एक संख्या को 38 से विभाजित करने पर भागफल 24 और शेषफल 13 प्राप्त होते हैं, तो संख्या है:

Ans ☒ 1. 925

☒ 2. 956

☒ 3. 975

☒ 4. 904

Question ID : 98958012214

Status : Not Answered

Chosen Option : --

Q.1 51 Select the most appropriate word for the given group of words.

to send back a criminal or an unwanted person to the country of his/her origin.

Ans ☒ 1. exile

☒ 2. export



☒ 3. excavate

☒ 4. extradite

Question ID : 98958011592

Status : Answered

Chosen Option : 3

Q.1  
52 Select the antonym of the given word.

THREATEN

Ans ☒ 1. coax

☒ 2. criticize

☒ 3. compete

☒ 4. commend

Question ID : 98958011580

Status : Answered

Chosen Option : 4

Q.1  
53 Select the synonym of the given word.

ENIGMATIC

Ans ☒ 1. resolute

☒ 2. purgative

☒ 3. mysterious

☒ 4. inquisitive

Question ID : 98958011574

Status : Answered

Chosen Option : 3

Q.1  
54 Select the antonym of the given word.

RECOVERED

Ans ☒ 1. last

☒ 2. latest

☒ 3. leased

☒ 4. lost

Question ID : 98958011578

Status : Answered

Chosen Option : 4

Q.1  
55 Select the most appropriate option to substitute the underlined segment in the given sentence. If there is no need to substitute it, select No substitution required.

I sometimes pass a delivery man wheeling a large handcart of Japanese food. The cart bears a striking message:  
'Creating a world where everyone believes in their own authenticity.'

Ans

☒ 1.

Been created a world where everyone believes in their own authenticity

☒ 2.

Created a world where everyone believes in their own authenticity

☒ 3.

Creating a world whereas everyone believes in their own authenticity

☒ 4. No substitution required

Question ID : 98958011558

Status : Answered

Chosen Option : 4

Q.1  
56 Select the synonym of the given word.

EXASPERATING

Ans ☒ 1. frustrating

☒ 2. exalting

☒ 3. saddening

☒ 4. exhausting

Question ID : 98958011577

Status : Answered

Chosen Option : 4

Q.1  
57 Select the most appropriate meaning of the given idiom.

be the Devil's advocate

Ans ☒ 1. to present a counter argument just for the sake of it

☒ 2. to present an argument in favor of a well-known evil man

☒ 3. to represent the devil as an advocate in witch trials

☒ 4. to represent an accused in a murder trial

Question ID : 98958011585

Status : Answered

Chosen Option : 2

Comprehension:

Read the following passage and answer the questions given after it.

Sedentary lifestyles are killing us – we need to build activity into our everyday lives, not just leave it for the gym. Google searches relating to physical fitness peak in January. Many people even trawl the web to find out about “desk exercises” and “workouts on the go” in case they are too busy to use their new gym memberships.

Our relationship with exercise is complicated. Reports from the UK and the US show it is something we persistently struggle with. As the new year rolls around, we anticipate having the drive to behave differently and become regular exercisers, even in the knowledge that we will probably fail to do so. Why do we want to exercise? What do we expect it to do for us? We all know we are supposed to be exercising, but hundreds of millions of us can't face actually doing it. It is just possible that the problem lies at the heart of the idea of exercise itself.

Exercise is movement of the muscles and limbs for a specific outcome, usually to enhance physical fitness. As such, for most of us, it is an optional addition to the working day – yet another item on a long list of responsibilities alongside the fulfilment of parental duties or earning money to put food on the table. But because the principal beneficiaries of exercises are we ourselves, it is one of the easiest chores to shirk. At the end of the working day, millions of us prefer to indulge in sedentary leisure activities instead of what we all think is good for us: a workout.





Fitness crazes are like diets: if any of them worked, there wouldn't be so many. *CrossFit*, the intensely physical, communal workout incorporating free weights, squats, pull-ups and so forth, is still less than 20 years old. Spin classes – vigorous group workouts on stationary bikes – have only been around for about 30. Aerobics was a craze about a decade before that, although many of its high-energy routines had already been around for a while. Before that, there was the jogging revolution, which began in the US in the early 1960s. *The Joggers Manual*, published in 1963 by the Oregon Heart Foundation, was a leaflet of about 200 words that sought to address the postwar panic about sedentary lifestyles by encouraging an accessible form of physical activity, explaining that “jogging is a bit more than a walk”. The jogging boom took a few years to get traction, hitting its stride in the mid- to late-80s, but it remains one of the most popular forms of exercise, now also in groups.

The exercise craze that dominated the 1950s was, oddly, not even an exercise. The vibrating exercise belt promised users could achieve effortless weight loss by having their midriffs violently jiggled. It didn't work, but you can still find similar machines available for purchase today.

SubQuestion No : 158

Q.1  
58 Why do most people make exercise their last priority?

Ans

-  1. The main beneficiaries of exercise are people themselves.
-  2. It is an added responsibility besides looking after the family.
-  3. They prefer to indulge in sedentary leisure activities.
-  4. It does not help in earning their livelihood.

Question ID : 98958011599

Status : Answered

Chosen Option : 2

Comprehension:



Read the following passage and answer the questions given after it.

Sedentary lifestyles are killing us – we need to build activity into our everyday lives, not just leave it for the gym. Google searches relating to physical fitness peak in January. Many people even trawl the web to find out about “desk exercises” and “workouts on the go” in case they are too busy to use their new gym memberships.

Our relationship with exercise is complicated. Reports from the UK and the US show it is something we persistently struggle with. As the new year rolls around, we anticipate having the drive to behave differently and become regular exercisers, even in the knowledge that we will probably fail to do so. Why do we want to exercise? What do we expect it to do for us? We all know we are supposed to be exercising, but hundreds of millions of us can't face actually doing it. It is just possible that the problem lies at the heart of the idea of exercise itself.

Exercise is movement of the muscles and limbs for a specific outcome, usually to enhance physical fitness. As such, for most of us, it is an optional addition to the working day – yet another item on a long list of responsibilities alongside the fulfilment of parental duties or earning money to put food on the table. But because the principal beneficiaries of exercises are we ourselves, it is one of the easiest chores to shirk. At the end of the working day, millions of us prefer to indulge in sedentary leisure activities instead of what we all think is good for us: a workout.





Fitness crazes are like diets: if any of them worked, there wouldn't be so many. *CrossFit*, the intensely physical, communal workout incorporating free weights, squats, pull-ups and so forth, is still less than 20 years old. Spin classes – vigorous group workouts on stationary bikes – have only been around for about 30. Aerobics was a craze about a decade before that, although many of its high-energy routines had already been around for a while. Before that, there was the jogging revolution, which began in the US in the early 1960s. *The Joggers Manual*, published in 1963 by the Oregon Heart Foundation, was a leaflet of about 200 words that sought to address the postwar panic about sedentary lifestyles by encouraging an accessible form of physical activity, explaining that “jogging is a bit more than a walk”. The jogging boom took a few years to get traction, hitting its stride in the mid- to late-80s, but it remains one of the most popular forms of exercise, now also in groups.

The exercise craze that dominated the 1950s was, oddly, not even an exercise. The vibrating exercise belt promised users could achieve effortless weight loss by having their midribs violently jiggled. It didn't work, but you can still find similar machines available for purchase today.

SubQuestion No : 159

Q.1  
59 Which of the following does not classify as an exercise?

Ans

-  1. Workouts on stationary bikes
-  2. Using midriff vibrating belt
-  3. Squats and pull-ups
-  4. High-energy Aerobics routines

Question ID : **98958011600**

Status : **Answered**

Chosen Option : **2**

Comprehension:

Read the following passage and answer the questions given after it.

Sedentary lifestyles are killing us – we need to build activity into our everyday lives, not just leave it for the gym. Google searches relating to physical fitness peak in January. Many people even trawl the web to find out about “desk exercises” and “workouts on the go” in case they are too busy to use their new gym memberships.

Our relationship with exercise is complicated. Reports from the UK and the US show it is something we persistently struggle with. As the new year rolls around, we anticipate having the drive to behave differently and become regular exercisers, even in the knowledge that we will probably fail to do so. Why do we want to exercise? What do we expect it to do for us? We all know we are supposed to be exercising, but hundreds of millions of us can't face actually doing it. It is just possible that the problem lies at the heart of the idea of exercise itself.

Exercise is movement of the muscles and limbs for a specific outcome, usually to enhance physical fitness. As such, for most of us, it is an optional addition to the working day – yet another item on a long list of responsibilities alongside the fulfilment of parental duties or earning money to put food on the table. But because the principal beneficiaries of exercises are we ourselves, it is one of the easiest chores to shirk. At the end of the working day, millions of us prefer to indulge in sedentary leisure activities instead of what we all think is good for us: a workout.

Fitness crazes are like diets: if any of them worked, there wouldn't be so many. *CrossFit*, the intensely physical, communal workout incorporating free weights, squats, pull-ups and so forth, is still less than 20 years old. Spin classes – vigorous group workouts on stationary bikes – have only been around for about 30. Aerobics was a craze about a decade before that, although many of its high-energy routines had already been around for a while. Before that, there was the jogging revolution, which began in the US in the early 1960s. *The Joggers Manual*, published in 1963 by the Oregon Heart Foundation, was a leaflet of about 200 words that sought to address the postwar panic about sedentary lifestyles by encouraging an accessible form of physical activity, explaining that “jogging is a bit more than a walk”. The jogging boom took a few years to get traction, hitting its stride in the mid- to late-80s, but it remains one of the most popular forms of exercise, now also in groups.

The exercise craze that dominated the 1950s was, oddly, not even an exercise. The vibrating exercise belt promised users could achieve effortless weight loss by having their midribs violently jiggled. It didn't work, but you can still find similar machines available for purchase today.

SubQuestion No : 160

Q.1  
60 Why do Google searches related to physical fitness peak in January?



Ans

- ✓ 1. It is a common new year resolution.
- ✗ 2. The cold weather encourages people to exercise.
- ✗ 3. It is the time to renew gym membership.
- ✗ 4. In the new year people want to look slim and trim.

Question ID : 98958011601

Status : Answered

Chosen Option : 3

Comprehension:

Read the following passage and answer the questions given after it.

Sedentary lifestyles are killing us – we need to build activity into our everyday lives, not just leave it for the gym. Google searches relating to physical fitness peak in January. Many people even trawl the web to find out about “desk exercises” and “workouts on the go” in case they are too busy to use their new gym memberships.

Our relationship with exercise is complicated. Reports from the UK and the US show it is something we persistently struggle with. As the new year rolls around, we anticipate having the drive to behave differently and become regular exercisers, even in the knowledge that we will probably fail to do so. Why do we want to exercise? What do we expect it to do for us? We all know we are supposed to be exercising, but hundreds of millions of us can't face actually doing it. It is just possible that the problem lies at the heart of the idea of exercise itself.





Exercise is movement of the muscles and limbs for a specific outcome, usually to enhance physical fitness. As such, for most of us, it is an optional addition to the working day – yet another item on a long list of responsibilities alongside the fulfilment of parental duties or earning money to put food on the table. But because the principal beneficiaries of exercises are we ourselves, it is one of the easiest chores to shirk. At the end of the working day, millions of us prefer to indulge in sedentary leisure activities instead of what we all think is good for us: a workout.

Fitness crazes are like diets: if any of them worked, there wouldn't be so many. *CrossFit*, the intensely physical, communal workout incorporating free weights, squats, pull-ups and so forth, is still less than 20 years old. Spin classes – vigorous group workouts on stationary bikes – have only been around for about 30. Aerobics was a craze about a decade before that, although many of its high-energy routines had already been around for a while. Before that, there was the jogging revolution, which began in the US in the early 1960s. *The Joggers Manual*, published in 1963 by the Oregon Heart Foundation, was a leaflet of about 200 words that sought to address the postwar panic about sedentary lifestyles by encouraging an accessible form of physical activity, explaining that “jogging is a bit more than a walk”. The jogging boom took a few years to get traction, hitting its stride in the mid- to late-80s, but it remains one of the most popular forms of exercise, now also in groups.

The exercise craze that dominated the 1950s was, oddly, not even an exercise. The vibrating exercise belt promised users could achieve effortless weight loss by having their midriffs violently jiggled. It didn't work, but you can still find similar machines available for purchase today.

SubQuestion No : 161

The sentence – “Exercise is movement of the muscles and limbs for a specific outcome, usually to enhance physical fitness”

- Ans
-  1. devalues exercise
  -  2. defends exercise
  -  3. describes exercise
  -  4. defines exercise

Question ID : 98958011602

Status : Answered

Chosen Option : 4

Comprehension:

Read the following passage and answer the questions given after it.

Sedentary lifestyles are killing us – we need to build activity into our everyday lives, not just leave it for the gym. Google searches relating to physical fitness peak in January. Many people even trawl the web to find out about “desk exercises” and “workouts on the go” in case they are too busy to use their new gym memberships.

Our relationship with exercise is complicated. Reports from the UK and the US show it is something we persistently struggle with. As the new year rolls around, we anticipate having the drive to behave differently and become regular exercisers, even in the knowledge that we will probably fail to do so. Why do we want to exercise? What do we expect it to do for us? We all know we are supposed to be exercising, but hundreds of millions of us can't face actually doing it. It is just possible that the problem lies at the heart of the idea of exercise itself.

Exercise is movement of the muscles and limbs for a specific outcome, usually to enhance physical fitness. As such, for most of us, it is an optional addition to the working day – yet another item on a long list of responsibilities alongside the fulfilment of parental duties or earning money to put food on the table. But because the principal beneficiaries of exercises are we ourselves, it is one of the easiest chores to shirk. At the end of the working day, millions of us prefer to indulge in sedentary leisure activities instead of what we all think is good for us: a workout.

Fitness crazes are like diets: if any of them worked, there wouldn't be so many. *CrossFit*, the intensely physical, communal workout incorporating free weights, squats, pull-ups and so forth, is still less than 20 years old. Spin classes – vigorous group workouts on stationary bikes – have only been around for about 30. Aerobics was a craze about a decade before that, although many of its high-energy routines had already been around for a while. Before that, there was the jogging revolution, which began in the US in the early 1960s. *The Joggers Manual*, published in 1963 by the Oregon Heart Foundation, was a leaflet of about 200 words that sought to address the postwar panic about sedentary lifestyles by encouraging an accessible form of physical activity, explaining that “jogging is a bit more than a walk”. The jogging boom took a few years to get traction, hitting its stride in the mid- to late-80s, but it remains one of the most popular forms of exercise, now also in groups.

The exercise craze that dominated the 1950s was, oddly, not even an exercise. The vibrating exercise belt promised users could achieve effortless weight loss by having their midriffs violently jiggled. It didn't work, but you can still find similar machines available for purchase today.

SubQuestion No : 162



Which expression means the same as 'an intense and widely shared enthusiasm for something, especially one that is short-lived; a craze.'

- Ans ☒ 1. Fad  
☐ 2. Phase  
☐ 3. Obsession  
☐ 4. Mania

Question ID : 98958011603  
Status : Answered  
Chosen Option : 4

Q.1 Select the most appropriate option to substitute the underlined segment in the given sentence. If there is no need to substitute it, select No substitution required.

63

A simple life of freedom and happiness is one of the more difficult thing to achieve.

- Ans ☒ 1. one of the most difficult things to achieve.  
☐ 2. one of the most difficult thing to achieve.  
☐ 3. No substitution required  
☐ 4. one of the more difficult things to achieve.

Question ID : 98958011559  
Status : Answered  
Chosen Option : 1

Q.1 Select the most appropriate option to substitute the underlined segment in the given sentence. If there is no need to substitute it, select No substitution required.

64

We really need to look at interventions who focus in long-term weight management that can achieve sustained weight loss at the recommended one to two pounds per week.

- Ans ☐ 1. whom focus on long-term  
☒ 2. that focus on long-term  
☐ 3. that focus with long-term  
☐ 4. No substitution required

Question ID : 98958011561  
Status : Answered  
Chosen Option : 2

Q.1 Identify the segment in the sentence, which contains the grammatical error.

65

To be interested in the changing seasons is a happy state of mind than to be hopelessly in love with spring.

- Ans ☒ 1. a happy state of mind  
☐ 2. hopelessly in love with spring  
☐ 3. To be interested  
☐ 4. in the changing seasons


Question ID : 98958011555  
Status : Answered


Q.1 Identify the segment in the sentence, which contains the grammatical error.


66

In 2016, after some unseemly back-and-forth to the Commons and Lords, it was decided that Acts of Parliament should no longer be printed on calfskin.

Ans  1. to the Commons and Lords

 2. should no longer be printed on calfskin

 3. after some unseemly back-and-forth

 4. it was decided


Question ID : 98958011552


Status : Answered


Chosen Option : 3


Q.1 Select the wrongly spelt word.

67

Ans  1. frenzied

 2. fractional

 3. furios

 4. freeze

Question ID : 98958011596

Status : Answered


Chosen Option : 3


Q.1 Select the most appropriate word for the given group of words.


68

an arrangement of flowers that is usually given as a present

Ans  1. bouquet

 2. bunch

 3. wreath

 4. cluster

Question ID : 98958011590


Status : Answered


Chosen Option : 3


Q.1 Select the most appropriate words to fill in the blanks.


69

Even on an overcast winter's day, it is at least 10 times \_\_\_\_\_ outside than in a standard office. By \_\_\_\_\_ to work and getting outdoors at lunchtime, we can begin to reconnect with the light.

Ans  1. brighter; walking

 2. brightest; walking

 3. brighter; walk

 4. bright; walk

Question ID : 98958011564

Status : Answered

Q.1  
70 Select the wrongly spelt word.

- Ans
- ☒ 1. expenditure
  - ☒ 2. exscitement
  - ☒ 3. eccentricity
  - ☒ 4. exclamation

Question ID : 98958011594

Status : Answered

Chosen Option : 2

Q.1  
71 Select the most appropriate option to substitute the underlined segment in the given sentence. If there is no need to substitute it, select No substitution required.

Just as technology has changed the way we shop, book a taxi, hold business meetings, and even find a parking spot, so too is it transforming the way we accessed healthcare, wherever we are in the world.

- Ans
- ☒ 1. so too was it transforming the way we accessed healthcare
  - ☒ 2. so too had it transformed the way we access healthcare
  - ☒ 3. so too is it transforming the way we access healthcare
  - ☒ 4. No substitution required

Question ID : 98958011560

Status : Answered

Chosen Option : 3

Q.1  
72 Select the most appropriate meaning of the given idiom.

put one's cards on the table

- Ans
- ☒ 1. to be able to continue
  - ☒ 2. to deal a game of cards
  - ☒ 3. to be honest
  - ☒ 4. to accept defeat

Question ID : 98958011584

Status : Answered

Chosen Option : 4

Q.1  
73 Select the most appropriate meaning of the given idiom.

It's Greek to me

- Ans
- ☒ 1. incomprehensible
  - ☒ 2. intangible
  - ☒ 3. inevitable
  - ☒ 4. incredible



Question ID : 98958011586  
Status : Answered  
Chosen Option : 1

Q.1  
74 Select the antonym of the given word.

RESTRICTED

- Ans ☒ 1. unbounded  
☒ 2. barred  
☒ 3. unmanned  
☒ 4. banned

Question ID : 98958011579  
Status : Answered  
Chosen Option : 1

Q.1  
75 Select the most appropriate words to fill in the blanks.

For years Indians looking for meaty \_\_\_\_\_ have been stuck with the \_\_\_\_\_ soya nuggets.

- Ans ☒ 1. Substitutes; regional  
☒ 2. substitutes; ubiquitous  
☒ 3. alternates; global  
☒ 4. alternative; zonal

Question ID : 98958011565  
Status : Answered  
Chosen Option : 1

Q.1  
76 Select the synonym of the given word.

LYRICAL


- Ans ☒ 1. musical  
☒ 2. overwhelming  
☒ 3. brilliant  
☒ 4. prosaic

Question ID : 98958011573  
Status : Answered  
Chosen Option : 1

Q.1  
77 Select the synonym of the given word.

CONTRAVENTE

- Ans ☒ 1. brake  
☒ 2. broach  
☒ 3. breech

 4. flaunt


Question ID : 98958011576


Status : Answered


Chosen Option : 2


Q.1 78 Select the most appropriate option to substitute the underlined segment in the given sentence. If there is no need to substitute it, select No substitution required.

It makes no difference to overall health whether you lose weight slow or quick, according to new research by York University.

Ans  1. whether you lose weight slowly or quickly

 2. whether you lose weight slowly or quick

 3. whether you lose weight slow or quickly

 4. No substitution required

Question ID : 98958011557


Status : Answered


Chosen Option : 1


Q.1 79 Select the most appropriate word for the given group of words.

a table or flat surface where offerings are made to a deity

Ans  1. pew

 2. sanctorum

 3. stone

 4. altar

Question ID : 98958011588


Status : Answered


Chosen Option : 4

Q.1 80 Select the antonym of the given word.

COMPROMISE

Ans  1. treaty

 2. dissent

 3. agreement

 4. disturbance


Question ID : 98958011582

Status : Answered

Chosen Option : 2

Q.1 81 Select the most appropriate meaning of the given idiom.

to give someone the cold shoulder

Ans  1. deny someone comforting clothes

- ☒ 2. ignore or show indifference
- ☐ 3. serve cold meat to someone
- ☐ 4. bury someone in freezing cold

Question ID : 98958011587  
Status : Answered  
Chosen Option : 2

Q.1 Select the most appropriate word for the given group of words.

82

a person who has an unnatural anxiety about one's own health typically involving imagined symptoms of illness.

- Ans ☐ 1. nymphomaniac
- ☐ 2. psychotic
- ☐ 3. neurotic
- ☒ 4. hypochondriac

Question ID : 98958011591  
Status : Answered  
Chosen Option : 4

Q.1 Select the most appropriate word for the given group of words.

83

a person who advocates complete political or social change

- Ans ☒ 1. radical
- ☐ 2. leader
- ☐ 3. fanatic
- ☐ 4. hero

Question ID : 98958011589  
Status : Answered  
Chosen Option : 3

Q.1 Select the most appropriate words to fill in the blanks.

84

People from \_\_\_\_\_ societies go to bed and wake up several hours earlier than people in \_\_\_\_\_ countries do and seem to sleep better than the \_\_\_\_\_.

- Ans ☒ 1. traditional; developed; latter
- ☐ 2. traditional; developed; later
- ☐ 3. modern; undeveloped; later
- ☐ 4. modern ; developed; latter

Question ID : 98958011562  
Status : Answered  
Chosen Option : 1

Q.1 Select the most appropriate words to fill in the blanks.

85

At the back of the eye there are light-sensitive \_\_\_\_\_ which connect to a small patch of brain tissue. They also \_\_\_\_\_ to areas of the brain that \_\_\_\_\_ mood and alertness.

- Ans
- ☒ 1. cells; link; adjust
  - ☒ 2. cells; join; adjust
  - ☒ 3. cells; link; regulate
  - ☒ 4. muscle; link; regulate

Question ID : 98958011563  
Status : Answered  
Chosen Option : 3

Q.1 Identify the segment in the sentence, which contains the grammatical error.

86

It seems that authors' creativity is not restrict to their work and happily overflows into their names too.

- Ans
- ☒ 1. happily overflows
  - ☒ 2. authors' creativity
  - ☒ 3. into their names too
  - ☒ 4. restrict to their work

Question ID : 98958011554  
Status : Answered  
Chosen Option : 1

Q.1 Select the wrongly spelt word.

87

- Ans
- ☒ 1. ecstatic
  - ☒ 2. extensive
  - ☒ 3. extortion
  - ☒ 4. existensial

Question ID : 98958011597  
Status : Answered  
Chosen Option : 4

Q.1 Select the wrongly spelt word.

88

- Ans
- ☒ 1. admiration
  - ☒ 2. adreneline
  - ☒ 3. adroit
  - ☒ 4. administration

Question ID : 98958011593  
Status : Answered  
Chosen Option : 2

Q.1 Select the antonym of the given word.

89

PERPETRATE

- Ans
- ☒ 1. commit

☒ 2. perpetuate

☒ 3. react

☒ 4. prevent

Question ID : 98958011581

Status : Answered

Chosen Option : 4

Q.1  
90 Select the most appropriate meaning of the given idiom.

get a taste of your own medicine

Ans ☒ 1. make, taste and take medicines for others

☒ 2. be treated by the same doctor

☒ 3. be given the medicine meant for others

☒ 4. be given the same treatment that you have given to others

Question ID : 98958011583

Status : Answered

Chosen Option : 4

Comprehension:

In the following passage some words have been deleted. Fill in the blanks with the help of the alternatives given. Select the most appropriate option for each number.

A massive fire in Chennai destroyed 184 cars (1) \_\_\_\_\_ to a private cab aggregator. (2) \_\_\_\_\_ blaze is suspected to have been triggered (3) \_\_\_\_\_ tall dried grass caught fire from a discarded (4) \_\_\_\_\_ cigarette butt, said a rescue services (5) \_\_\_\_\_.

SubQuestion No : 191

Q.1  
91 Select the most appropriate option to fill in blank No.1.

Ans ☒ 1. belonged

☒ 2. belonging

☒ 3. belongs

☒ 4. were belonging

Question ID : 98958011568

Status : Answered

Chosen Option : 2

Comprehension:



In the following passage some words have been deleted. Fill in the blanks with the help of the alternatives given. Select the most appropriate option for each number.

A massive fire in Chennai destroyed 184 cars (1) \_\_\_\_\_ to a private cab aggregator. (2) \_\_\_\_\_ blaze is suspected to have been triggered (3) \_\_\_\_\_ tall dried grass caught fire from a discarded (4) \_\_\_\_\_ cigarette butt, said a rescue services (5) \_\_\_\_\_.

SubQuestion No : 192

Q.1  
92 Select the most appropriate option to fill in blank  
No.2.

- Ans
- ☒ 1. Some
  - ☒ 2. The
  - ☒ 3. A
  - ☒ 4. One

Question ID : 98958011569

Status : Answered

Chosen Option : 2

Comprehension:

In the following passage some words have been deleted. Fill in the blanks with the help of the alternatives given. Select the most appropriate option for each number.

A massive fire in Chennai destroyed 184 cars (1) \_\_\_\_\_ to a private cab aggregator. (2) \_\_\_\_\_ blaze is suspected to have been triggered (3) \_\_\_\_\_ tall dried grass caught fire from a discarded (4) \_\_\_\_\_ cigarette butt, said a rescue services (5) \_\_\_\_\_.

SubQuestion No : 193

Q.1  
93 Select the most appropriate option to fill in blank  
No.3.

- Ans
- ☒ 1. until
  - ☒ 2. of
  - ☒ 3. after
  - ☒ 4. by

Question ID : 98958011570

Status : Answered

Chosen Option : 4

Comprehension:

In the following passage some words have been deleted. Fill in the blanks with the help of the alternatives given. Select the most appropriate option for each number.

A massive fire in Chennai destroyed 184 cars (1) \_\_\_\_\_ to a private cab aggregator. (2) \_\_\_\_\_ blaze is suspected to have been triggered (3) \_\_\_\_\_ tall dried grass caught fire from a discarded (4) \_\_\_\_\_ cigarette butt, said a rescue services (5) \_\_\_\_\_.

SubQuestion No : 194

Q.1  
94 Select the most appropriate option to fill in blank  
No.4.

- Ans
- ☒ 1. lighting
  - ☒ 2. smouldering
  - ☒ 3. firing
  - ☒ 4. smoking

Question ID : 98958011571  
Status : Answered  
Chosen Option : 1

Comprehension:

In the following passage some words have been deleted. Fill in the blanks with the help of the alternatives given. Select the most appropriate option for each number.

A massive fire in Chennai destroyed 184 cars (1) \_\_\_\_\_ to a private cab aggregator. (2) \_\_\_\_\_ blaze is suspected to have been triggered (3) \_\_\_\_\_ tall dried grass caught fire from a discarded (4) \_\_\_\_\_ cigarette butt, said a rescue services (5) \_\_\_\_\_.

SubQuestion No : 195

Q.1  
95 Select the most appropriate option to fill in blank  
No.5.

- Ans
- ☒ 1. culprit
  - ☒ 2. victim
  - ☒ 3. special
  - ☒ 4. official

Question ID : 98958011572  
Status : Answered  
Chosen Option : 4

Q.1  
96 Select the synonym of the given word.

MEMOIR

- Ans
- ☒ 1. anecdote
  - ☒ 2. story



✓ 3. diary

✗ 4. episode

Question ID : 98958011575

Status : Answered

Chosen Option : 3

Q.1 Identify the segment in the sentence, which contains the grammatical error.

97

Though paper has been the dominant medium for print, the British parliament had managed valiantly to hold back the paper tide for over half a millennium.

Ans ✗ 1. the dominant medium for print

✗ 2. Though paper has been

✗ 3. to hold back the paper tide

✓ 4. Parliament had managed

Question ID : 98958011553

Status : Answered

Chosen Option : 4

Q.1 Select the most appropriate words to fill in the blanks.

98

Telemedicine is the delivery of clinical services across \_\_\_\_\_ and IT devices. It's a subset of a wider \_\_\_\_\_ care originally developed for doctors to be able to \_\_\_\_\_ patients living in rural and remote areas.

Ans ✗ 1. telephones; actual; discharge

✗ 2. telecom; visual; admit

✓ 3. telecoms; virtual; treat

✗ 4. telephone; virtual; diagnose

Question ID : 98958011566

Status : Answered

Chosen Option : 2

Q.1 Identify the segment in the sentence, which contains the grammatical error.

99

The Natural History of Selborne, records the importance of the earthworm to soil and describe an England unspoiled by the Industrial Revolution.

Ans ✓ 1. describe an England

✗ 2. of the earthworm to soil

✗ 3. records the importance

✗ 4. unspoiled by the Industrial Revolution

Question ID : 98958011556

Status : Not Answered


Chosen Option : --


Q.2 Select the wrongly spelt word.

00

Ans ✗ 1. indigenous

✗ 2. engraving

 3. ingratitude

 4. ingredeints

Question ID : 98958011595

Status : Answered

Chosen Option : 1